



U. E Murachi

1er Grado

Plan de Asignaciones Escolares:

Semana del 10-06-19 al 14-06-19

Proyecto N°6: "Mi proyecto de vida"

Valor de la semana: Comunidad

Artista: Frida Kahlo

Comunidad



Tip: para a la realización de las actividades

- ✓ Trabaja en un sitio y con buena iluminación, esto te ayudará a mantener a una buena presentación.
- ✓ Antes de iniciar ubica en tu sitio de trabajo todos los implementos necesarios para la realización de la asignación.
- ✓ Escribir dentro del espacio de las líneas.
- ✓ Agarrar el lápiz y los colores de manera correcta.
- ✓ Trabajar de manera concentrada para evitar borrar las tareas.
- ✓ Recuerda el punto de ataque, dirección y secuencia.
- ✓ Los márgenes deben estar trazados de color rojo y con regla.
- ✓ El recuadro para el dibujo es de color rojo y respeta las pautas para el coloreado
- ✓ Cuida la presentación de tus actividades, manteniendo el orden y la limpieza.
- ✓ Recuerda evitar el uso de los marcadores y bolígrafos.
- ✓ Es importante la puntualidad en la entrega de las tareas.
- ✓ Trabaja con mucho entusiasmo, creatividad y amor.

Esta semana estaremos celebrando un día muy especial en nuestro colegio. Día del padre en MURACHI...

LUNES 10/06/2019

Happy Anniversary Murachi

Valencia, _____
(Month) (Day) (Year)

U.E. Murachi
First Grade

Math Homework

Resolves the following adds and sustractions:

✓ $21+19$:

✓ $40+30$:

✓ Forty eight plus one:

✓ Ninety plus ten:

✓ Eight minus two :

✓ $40-10$:

✓ Two plus five:

✓ Eighteen minus eight:

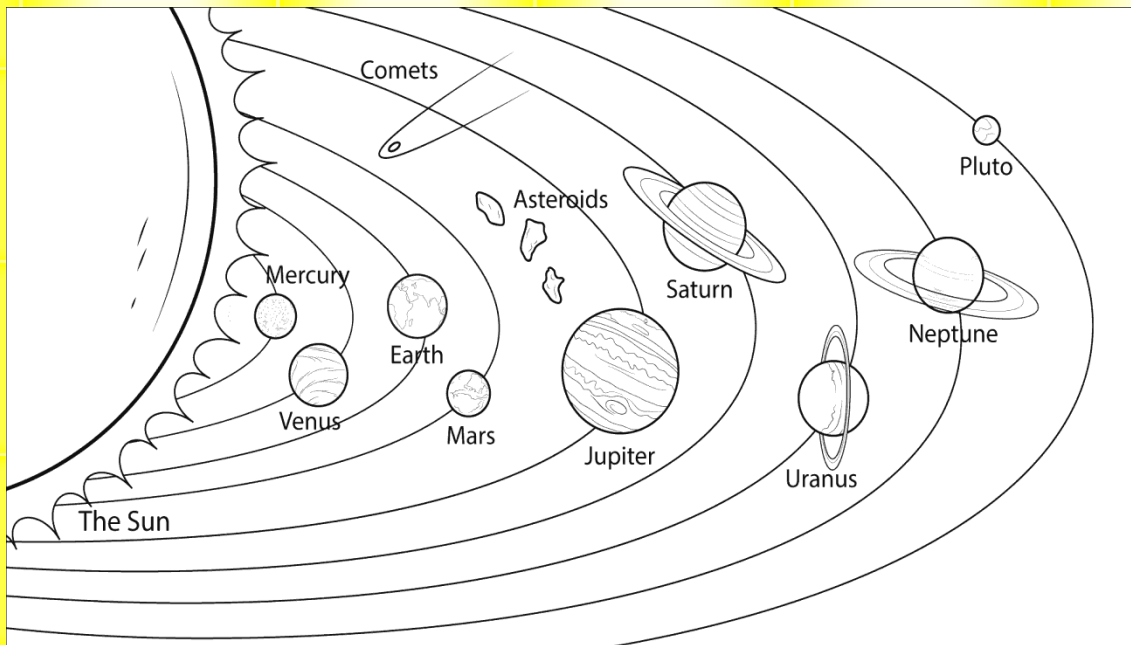
✓ Five minus two:

✓ $3+4$:

Valencia, _____
(Month) (Day) (Year)
U.E. Murachi
First Grade

Science Homework

Color the solar system:



LENGUA Y LITERATURA

Mi niño (a): Escribe un poema con su respectivo dibujo, en esta ocasión realízalo dedicado a papá.

MARTES 11/06/2019

MATEMÁTICA

Mi pequeño matemático: Resuelve los siguientes problemas utilizando los pasos correspondientes para su resolución: datos, operación y respuesta.

1. Manuel y Carmen cuentan sus juguetes. Si Manuel tiene 27 y Carmen 25, ¿Cuántos juguetes tienen entre los dos?
2. Si en un autobús van 23 pasajeros y se suben 19 ¿Cuántos pasajeros van en el autobús?

3. Daniel tiene 48 cuentos y Carolina 38 ¿Cuántos cuentos hay en total?

MIÉRCOLES 12/06/2019

LENGUA Y LITERATURA

Mi niño (a) Mi niño (a): Realiza en tu cuaderno. Completa cada poema con las palabras adecuadas.

mosquitos

zapatos

peruchito

descalzos

A San Pedro como era calvo
Lo picaban los _____
Y su mamá le decía:
“ponte el gorro _____ ”







En la puerta del cielo
venden _____
para los angelitos
que van _____

*Hello my little genius this week remember to practice your spelling with this words, we will practice all together on our spelling class

LIST OF WORDS #17 THIRD QUARTER

FIRST GRADE

From 10/03/19 to 14/03/19

Soccer 	Basketball 	Football 
Tennis 	Volleyball 	Swimming 

*Now, I have a super cool activity for you! Draw your favorite sports equipment. Be very creative and have fun !

JUEVES 13/06/2019

SOCIALES

Mi niño (a): Realiza en tu cuaderno un mapa mental sobre las señales de tránsito con un pequeño concepto de cada uno y su dibujo, recordemos que tenemos las señales de reglamentación, prevención y las de información.

Querido papá te recordamos que mañana tendremos nuestra actividad especial preparada para ti. No faltes te esperamos...



VIERNES 14/06/2019

MATEMÁTICA

Mi pequeño matemático: Realiza en tu cuaderno las siguientes operaciones:

- a) $752 + 241 =$
- b) $674 - 531 =$
- c) $256 + 542 =$
- d) $547 - 305 =$
- e) $325 + 571 =$

Feliz fin de semana!!!

